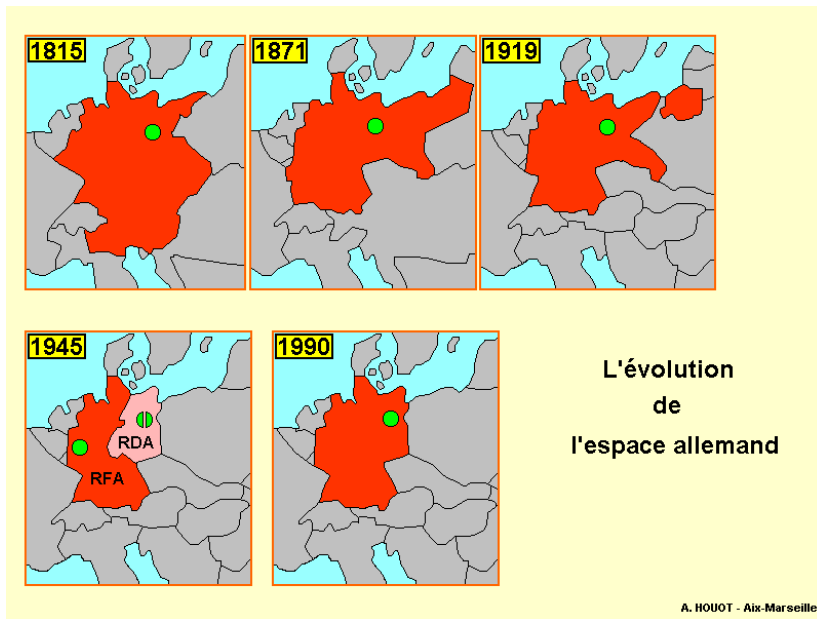


CHAPITRE II – L'Allemagne: une grande puissance au cœur de l'Europe.

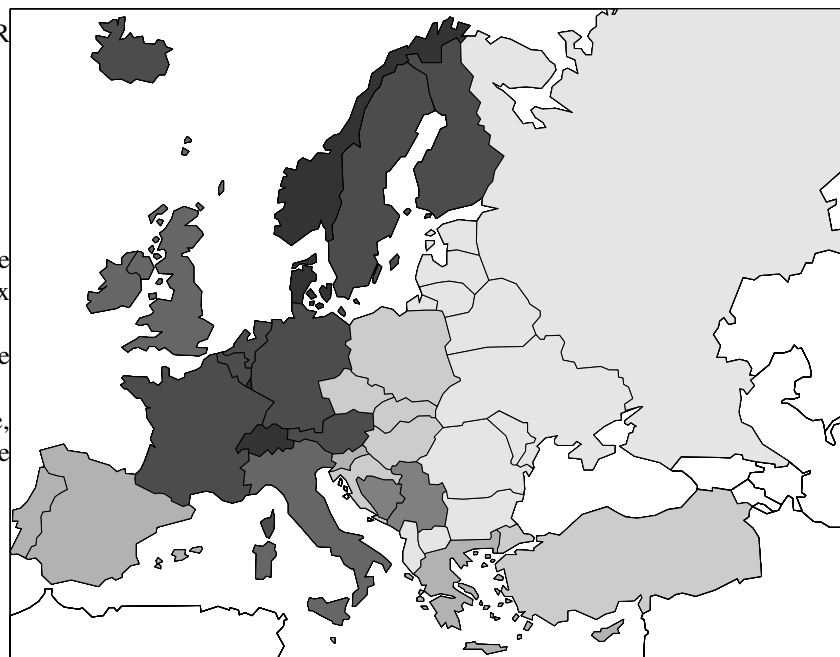


QUELLE PLACE POUR L'ALLEMAGNE EN EUROPE?


Reprise doc 1 page 200.

Si on considère l'Allemagne sur cette carte, d'après chapitre précédent, deux remarques:

- pays qui produit le plus de richesses en Europe
- pays situé entre les deux Europe, celle de l'ouest, riche, et celle de l'est, moins riche.



PIB par H en \$/h/an



Avec ces deux remarques, fil conducteur de la leçon:

- savoir:
 - quels sont les fondements et les limites de la puissance allemande?
 - quelles sont les conséquences de sa situation centrale en Europe?
- savoir faire:
 - réalisation d'une carte de synthèse.

1ère question, qui fait fil conducteur de la première leçon sur l'Allemagne:

- **la place de l'Allemagne en Europe.**

INTRODUCTION: L'Allemagne, au niveau européen, est remarquable par deux aspects:
1° c'est le pays le plus qui produit le plus de richesses, autrement dit celui dont le PIB est le plus élevé (2800 milliards de dollars en 2005)
2° le pays se situe à la limite entre l'Europe de l'ouest (riche et qui a fondé l'Union Européenne) et l'Europe de l'est (

- Quels sont les fondements de la richesse allemande?
- Quelles sont les conséquences géographiques de sa situation centrale en Europe?

I) QUELLE PLACE POUR L'ALLEMAGNE EN EUROPE?

A) UN TERRITOIRE MARQUÉ PAR L'HISTOIRE

doc 1 page 220

- nature du doc
- à quelles dates a été représenté l'Allemagne. À quels événements historiques majeurs ces dates correspondent-elles?
- Quels types de changements remarque-t-on? Entre 1921 et 1949? entre 1949 et 1990?
- que s'est-il passé en 1990? comment a-t-on appelé cet événement?
- que signifie RDA? RFA? Quelle différence entre ces deux pays?
- quelle est la capitale de l'Allemagne en 1937? de 1949 à 1990? en 1990?

L'Allemagne a connu, tout au long du XXe siècle, de nombreux changements de ses frontières. Après la Première Guerre Mondiale (Traité de Versailles, 1919), le pays perd des territoires à l'est et à l'ouest (Alsace-Lorraine notamment). Après la Seconde Guerre Mondiale, le pays est ruiné et détruit (bombardements alliés), et divisé en deux états distincts.

- la R.D.A. (République Démocratique d'Allemagne, à l'est), sous domination soviétique, adoptant un modèle économique communiste.
- la R.F.A. (République Fédérale d'Allemagne, à l'ouest), sous domination occidentale (états-unis, royaume uni, france), adoptant un modèle économique capitaliste.

Réunifiée en 1990, le pays a changé de capitale (Berlin, ville elle aussi réunifiée), mais a conservé les frontières de ses *länder*, grandes régions possédant une autonomie politique importante. L'Allemagne est en effet un état fédéral: chaque Land possède un gouvernement propre qui décide de la politique à mener dans certains domaines comme l'éducation ou la police).

B) UNE ALLEMAGNE AU COEUR DE L'EUROPE.

doc 5 page 221 et 4 p 225

- Décrire situation de l'Allemagne plus en détails, d'après problématique: atouts, avantages; mais déséquilibres, difficultés, désavantages. (zone délimitée en rouge sur la carte (mégapole, dynamisme, etc.). l'Allemagne en fait partie? Quelle région de l'Allemagne?
- La capitale fait-elle partie de cette zone? Se référer à la légende: à quelle région appartient-elle?
- Où se situe la capitale en Allemagne? Et à l'échelle européenne? Quels sont les avantages et les inconvénient de cette « situation »?
- avec combien de pays est-elle limitrophe? Quel est l'avantage d'avoir ainsi de nombreux voisins?
- l'Allemagne est-elle bordée de mers? Lesquelles?
- Quel peut être le rôle de la ville de Hambourg? Cf 3 page 222

- Avec la réunification, intervenue en 1990, l'Allemagne se situe aujourd'hui au coeur d'une Europe en plein changement: les pays d'Europe de l'Est, économiquement « en retard » sur l'ouest, ont été intégrés au début des années 2000 dans l'Union Européenne.
- L'ouest du pays, dans la vallée du Rhin (aussi appelé Axe Rhénan), est parfaitement intégré au « coeur de l'europe » (mégapole européenne), espace le plus riche et le plus dynamique du continent, notamment grâce à un très dense réseau de communications (autoroutes, canaux et voies fluviales).
- Le territoire, d'une manière générale, est ouvert sur l'extérieur: Berlin, la nouvelle capitale depuis la réunification, sur l'Europe de l'est; le grand port de Hambourg, sur la mer du nord (ce qui permet des échanges commerciaux importants avec la Scandinavie, l'Europe de l'ouest, et les pays Baltes). Si bien que l'Allemagne est, pour tous ses pays limitrophes, le premier partenaire commercial.

Consigne carte:

Indiquer sur la carte:

- la capitale
- les pays limitrophes¹ de l'Allemagne.
- la vallée du Rhin.
- l'espace intégré au « cœur » dynamique de l'Europe.
- l'ancienne frontière RFA / RDA.

... et ne pas oublier pas la légende, l'orientation, le titre.

C) SUJET DE PARAGRAPHE: « POPULATION ET PEUPLEMENT EN ALLEMAGNE »

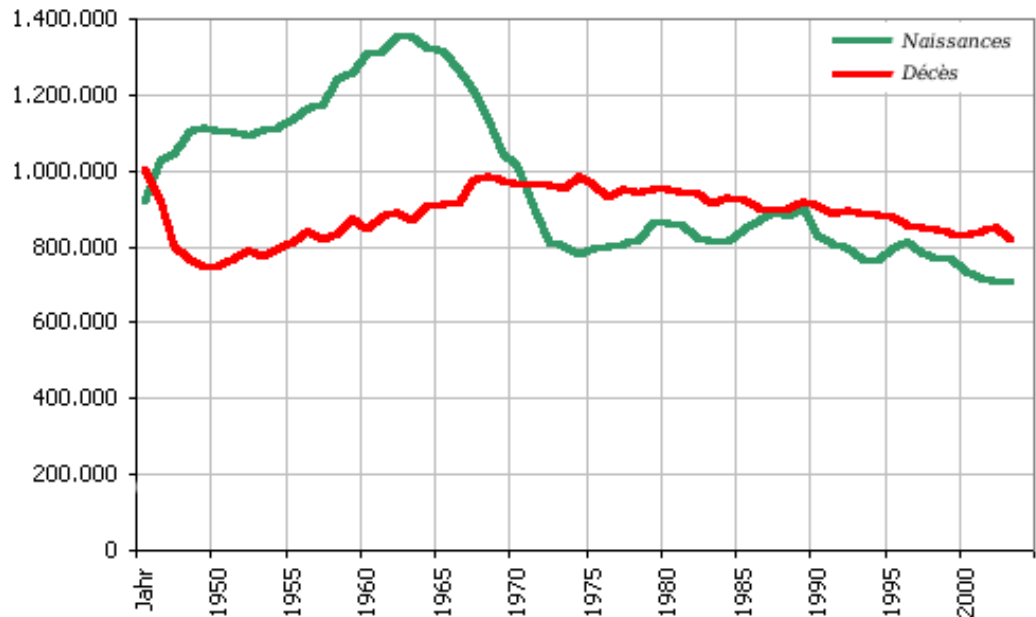
À l'aide des documents 5 page 221, 6 page 225

Le paragraphe sera organisé ainsi:

- 1° une puissance démographique en Europe.
- 2° une société majoritairement urbaine.
- 3° vieillissement et immigration.

Les mots de vocabulaire à utiliser (à vous de savoir où les placer):

- axe rhénan
- mégapole
- conurbation
- crise démographique
- dénatalité
- Berlin
- Munich
- accroissement naturel
- solde migratoire
- immigration / immigrés (au choix)
- europe orientale.



¹ Pays limitrophes =